

**TÖRTÉNELEM**  
**Megyei szaktárgyi vetélkedő – 2015**  
**Írásbeli feladatsor az érettségiző osztályok számára**

**Először olvassa el a feladatokban megfogalmazott kérdéseket, majd alaposan gondolja át a válaszait, s azt írja le. Nem egyértelmű áthúzás, javítás, stb. esetében arra a feladatrészre nem kap pontot. Íráskor törekedjen a fogalmazás tömörségére, az írás olvashatóságára. A feladatlapokra csak kék színű golyós- vagy töltőtollal írjon.**

**I. TÖRTÉNELMI KRONOLÓGIÁRA IRÁNYULÓ KÉRDÉSEK**

**1. Dátum-meghatározás. Határozza meg, milyen történelmi események kapcsolódnak az alábbi dátumokhoz? (elemenként 1 pont, összesen 10 pont)**

1. 1939. szeptember 17.

2. 1941 augusztus 30.

3. 1945. október 24.

4. 1946 február 1.

5. 1956 november 4.

6. 1958. szeptember 28.

7. 1963. november 22.

8. 1990. október 3.

9. 1993. január 1.

10. 2001. szeptember 11.

**2. Mikor történtek az alábbi események? Írja utánuk a dátumot! (elemenként 1 pont, összesen 10 pont)**

1. Magyar hadüzenet a Szovjetunióknak

2. Németország megtámadja Norvégiát és Dániát

3. Horthy kiugrási kísérlete

4. Angliai csata

5. Létrejön az MDP

6. Az SZKP XX. kongresszusa

7. Jurij Gagarin űrrepülése

8. Diáklázadás Párizsban

9. Mihail Gorbacsov lesz az SZKP első embere

10. Magyarországon kikiáltják a III. Köztársaságot

**3. Állítsa az eseményeket a megfelelő időrendi sorrendbe egymás után és adja meg az esemény dátumát! (elemenként 1 pont a helyes dátum és 1 pont a helyes sorrend, összesen 6 pont)**

- |   |    |
|---|----|
| a) a Watergate-ügy kirobbanása                  | 1. |
| b) az Európai Gazdasági Közösség megalakulása   | 2. |
| c) a III. Köztársaság létrejötte Magyarországon | 3. |
| d) Szezi-válság                                 | 4. |
| e) Normandiai partraszállás                     | 5. |

**II. FOGALOM-MEGHATÁROZÁS.**

**Maximálisan egy mondatban, tömören határozza meg az alábbi történelmi fogalmakat! (elemenként 1 pont, összesen 8 pont)**

1. fundamentalizmus

2. domínium

3. személyi-kultusz

4. eszkaláció

5. asszimiláció

6. disszidens mozgalom

7. kékcédulás választások

8. kistigrisek

**III. TÖRTÉNELMI FOGALMAKRA VONATKOZÓ KÉRDÉSEK**

**1. Kakukktójás. Ki nem illik a sorba és miért? Válaszát indokolja meg! (elemenként 2 pont (meghatározás 1 pont, indoklás 1 pont), összesen 10 pont)**

1. Barbarossa terv – Marshall-terv – Ost terv – Margaréta terv

Indoklás:

2. Támogatott – Tiltott – Terjesztendő – Türt

Indoklás:

3. Bárdossy László – Sztójay Döme – Tildy Zoltán – Lakatos Géza

Indoklás:

4. Margaret Thatcher – David Cameron – J.F. Kennedy – Winston Churchill

Indoklás:

5. Andropov – Sztálin – Hruscsov – Brezsnyev

Indoklás:

**2. Mit tud róluk, kik voltak az alábbi személyek? Válaszát egy mondatban fogalmazza meg. (elemenként 1 pont, összesen 8 pont)**

1. Konrad Adenauer

2. Josip Broz Tito

3. Gustáv Husák

4. Borisz Jelcin

5. Mao Ce-tung

6. Ronald Reagan

7. Dzsaváharlál Nehru

8. Tony Blair

#### IV. Földrajzi jellegű kérdések?

1. Állapítsa meg az alábbi földrajzi helyekről, mely mai ország területén találhatóak? (elemenként 1 pont, összesen 10 pont)

- |                   |                   |
|-------------------|-------------------|
| a) Poznan:        | f) Prága:         |
| b) Dien Bien Phu: | g) Gdansk/Danzig: |
| c) Vajdaság:      | h) Trianon:       |
| d) Teherán:       | i) Bácska:        |
| e) Helsinki:      | j) Szuec:         |

2. Melyik helyszínekre utalnak az alábbi meghatározások? (elemenként 1 pont, összesen 6 pont)

- itt alakul meg az Ideiglenes Nemzeti Kormány 1944-ben:
- Ezt a várost védte sikeresen a szovjet hadsereg 900 napon keresztül a német csapatoktól:
- 1955-ben ebben a városban tanácskozik 29 afrikai és ázsiai állam, a nemzetközi béke és a nemzetek szabadsága érdekében:
- 1940-től a Pétain marsall kormánya által irányított francia területek fővárosa:
- 1949-ben ide menekül Csang Kaj-sek és kormánya, és megalakítja a Kínai Köztársaságot:
- 1987-ben itt rendezik meg a magyar nemzeti ellenzék első tanácskozását, mely a rendszerváltó folyamatok fontos mérföldköve:

#### IV. RELÁCIÓANALÍZIS (elemenként 1 pont, összesen 4 pont)

Értelmezze akövetkező összetett mondatokat a lentebbbb vázoltak alapján!

- A: mindkét állítás igaz, és összefüggés van köztük  
B: mindkét állítás igaz, de nincs köztük összefüggés  
C: az állítás igaz, az indoklás hamis  
D: az állítás hamis, az indoklás igaz.  
E: mindkettő hamis.

- A második világháború után felgyorsult a brit birodalom szétesése, **mert** kialakult a kétpólusú világrendszer.
- Nagy Imrét 1951-ben nevezik ki először miniszterelnöknek, **mert** a szovjet vezetés elégedetlen volt Rákosi Mátyás tevékenységével.
- Mihail Gorbacsov *nyíltság* politikája 1986-ban bukott meg, **mert** a hatóságok eltitkolták a csernobili atomkatasztrófa tényét.
- Lengyelország kevesebb mint egy hónap alatt kapitulált a kétfrontos harcban, **mert** a nyugati hatalmak nem üzentek hadat Németországnak


#### V. TÖBBSZÖRÖS/TÖBBFÉLE TÖRTÉNELMI TÉNYRE RÁKÉRDEZŐ FELADAT!

Az alábbi táblázat üresen maradt részeit töltsék ki a megadott tények alapján! (elemenként 2 pont, összesen 10 pont)

S/sz	Dátum	Név(nevek)	Helység	Mai ország	Esemény
1	1941. április 3.		Budapest	Magyarország	Öngyilkosság
2			Tokioi-öböl	Japán	Kapituláció aláírása
3	1969 áprilisa	Charles de Gaulle		Franciaország	
4		Nagy Imre	Budapest		Újratemetés
5	1991. december 21.		Ashabad	Kazahsztán	

V. Ki látható a képen? (elemenként 1 pont, összesen 8 pont)

a) magyar személyek:



1)



2)




3)



4)

b) külföldi személyek:




1)



2)



3)



4)

**VI. Esszé: Jellemezze a hidegháború kibontakozásának folyamatát, mutassa be a főbb válságokat, konfliktusokat! (10 pont)**